

# 全真模拟训练卷

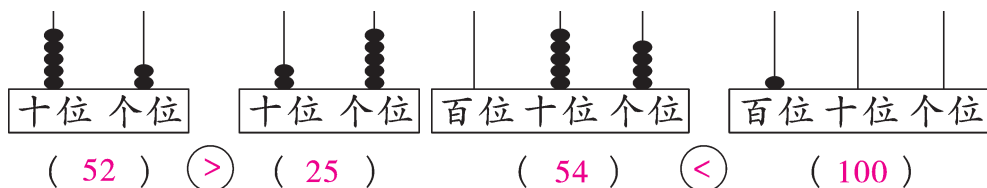


(二)

题号	一	二	三	四	五	六	七	八	总分
得分									

## 一、填一填。(11 分)

1. 看图写数,并比较大小。



- 个位上是7,十位上是5,这个两位数是( 57 )。
- 最小的两位数是( 10 ),再加( 89 )就是最大的两位数。
- 写出下面各数的相邻数。  
( 89 ),90,( 91 )。      ( 58 ),59,( 60 )。
- 在42,38,7,27,68中,最大的数是( 68 ),最小的数是( 7 )。
- 一个两位数,十位上是6,个位上的数字比十位上的数字大3,这个数是( 69 )。
- 7个十和9个一合起来是( 79 ),38里面有( 3 )个十和( 8 )个一。
- 60比44多( 16 ),72比90少( 18 )。
- 摆1个三角形要用3根同样的小棒,摆3个独立的三角形要用( 9 )根同样的小棒。

## 二、在 $\bigcirc$ 里填上“>”“<”或“=”。(9 分)

36  $\bigcirc$  77

90  $\bigcirc$  9

80  $\bigcirc$  81

$46+7 \bigcirc 49$

$58-3 \bigcirc 58$

$54 \bigcirc 42+13$


$67 \bigcirc 33+33$

$24+15 \bigcirc 15+24$

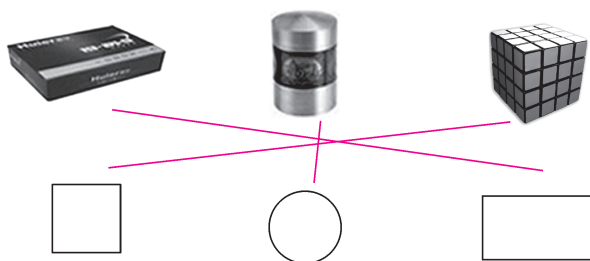
$72-12 \bigcirc 80-20$

### 三、连一连。(共 10 分)

1. 他们观察到的公共汽车分别是什么样子的?(4 分)



2. 用下面的物体分别可以画出哪种图形?(6 分)



### 四、算一算。(共 24 分)

1. 直接写出得数。(6 分)

$46-7=39$

$56+9=65$

$72-20=52$

$20+39=59$

$72-7=65$

$40+25=65$

$4+46=50$

$47-5=42$

$78-78=0$

$29+8=37$

$50-8=42$

$41-9=32$

2. 用竖式计算。(18 分)

$56+24=80$

$90-52=38$

$95-78=17$

$$\begin{array}{r} 56 \\ + 24 \\ \hline 80 \end{array}$$

$$\begin{array}{r} 90 \\ - 52 \\ \hline 38 \end{array}$$

$$\begin{array}{r} 95 \\ - 78 \\ \hline 17 \end{array}$$

$$62-8=54$$

$$\begin{array}{r} \dot{6} \ 2 \\ - \quad 8 \\ \hline 5 \ 4 \end{array}$$

$$77+23=100$$

$$\begin{array}{r} 7 \ 7 \\ + \ 2 \ 3 \\ \hline 1 \ 0 \ 0 \end{array}$$

$$36+29=65$$

$$\begin{array}{r} 3 \ 6 \\ + \ 2 \ 9 \\ \hline 6 \ 5 \end{array}$$

$$27+34+23=84$$

$$\begin{array}{r} 2 \ 7 \\ + \ 3 \ 4 \\ \hline 6 \ 1 \\ + \ 2 \ 3 \\ \hline 8 \ 4 \end{array}$$

$$50-20-18=12$$

$$\begin{array}{r} 5 \ 0 \\ - \ 2 \ 0 \\ \hline 3 \ 0 \\ - \ 1 \ 8 \\ \hline 1 \ 2 \end{array}$$

$$68-29+51=90$$

$$\begin{array}{r} \dot{6} \ 8 \\ - \ 2 \ 9 \\ \hline 3 \ 9 \\ + \ 5 \ 1 \\ \hline 9 \ 0 \end{array}$$

五、请你算一算，每张卡片上的两个数的和与差各是多少？（6分）

65
8

和：73

差：57

27
9

和：36

差：18

34
6

和：40

差：28

六、猜猜我是谁。（8分）



我比51少7。

( 44 )



我等于50减6。

( 44 )



15比我多9。

( 6 )



我加17得63。

( 46 )

七、解决问题。（共20分）

1. 丛林里有16只蝴蝶，飞走了7只，丛林里现在还有多少只蝴蝶？

(4分)

【答案】 $16-7=9$ (只)

口答：丛林里现在还有9只蝴蝶。

2. 王奶奶家养了 18 只兔子,如果每只兔子吃 1 个萝卜,那么还剩 13 个萝卜。王奶奶家共有多少个萝卜?(4 分)

【答案】 $18+13=31$ (个)

口答:王奶奶家共有 31 个萝卜。

3.     (12 分)

19只

63只

21只

43只

- (1)一共有多少只鸡?

【答案】 $19+63=82$ (只)

口答:一共有 82 只鸡。

- (2)鹅比鸭少多少只?

【答案】 $43-21=22$ (只)

口答:鹅比鸭少 22 只。

- (3)鸡比鸭多多少只?

【答案】 $82-43=39$ (只)

口答:鸡比鸭多 39 只。

八、(开放题)用 1~9 这九个数字填一填,你能组成多少组这样的算式?(每组算式中只有 1 可以重复使用,写出两组)(12 分)

$$\boxed{1} \boxed{9} - \boxed{3} = \boxed{1} \boxed{8} - \boxed{2}$$

$$\boxed{1} \boxed{7} - \boxed{5} = \boxed{1} \boxed{6} - \boxed{4} \quad (\text{填法不唯一})$$